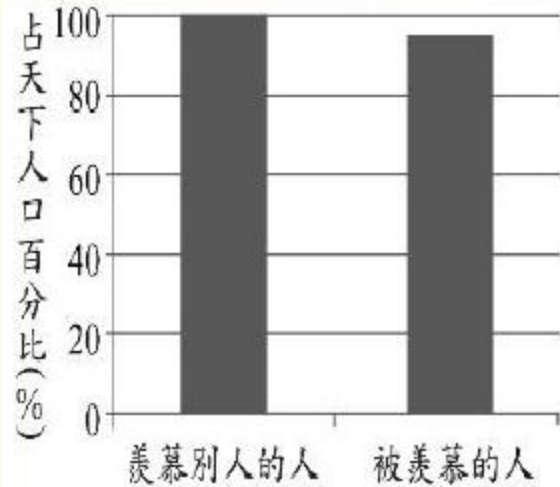
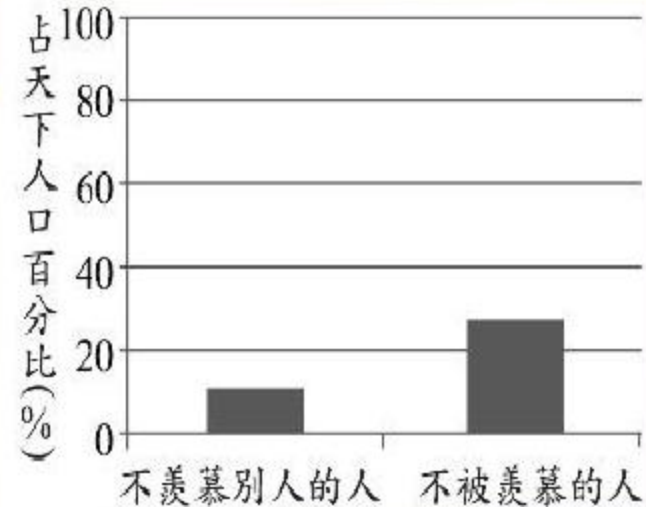


- ➔ 22. 周老師在黑板上寫道：「天下沒有一個人從不羨慕別人，只有少數人從沒被別人羨慕過。」她請學生以圖表來表示這句話，下列哪一張圖表最恰當？ (106教育會考)

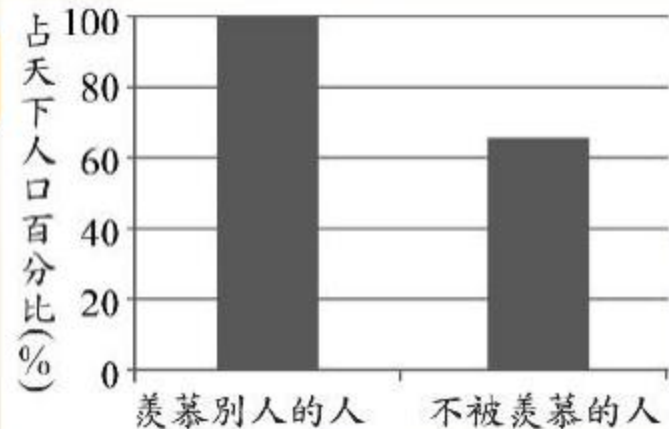
A



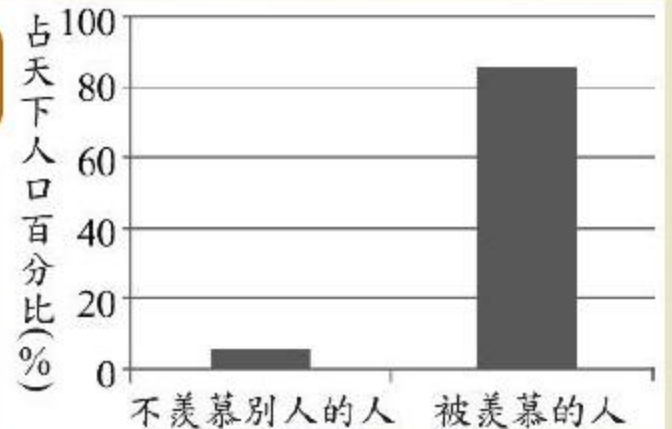
B



C



D



- 2.表(一)為生活在南極的動物及其食物來源，根據此表判斷，下列有關這些動物之間交互關係的敘述，何者最合理？
- (A)虎鯨和藍鯨為捕食關係
 - (B)虎鯨和藍鯨為競爭關係
 - (C)帝王企鵝和阿德列企鵝為捕食關係
 - (D)帝王企鵝和阿德列企鵝為競爭關係

表(一)

動物名稱	食物來源
虎鯨	藍鯨、海豹
藍鯨	磷蝦
帝王企鵝	小魚、烏賊
阿德列企鵝	磷蝦

- 1. 今有甲、乙、丙三名候選人參與某村村長選舉，共發出1800張選票，得票數最高者為當選人，且廢票不計入任何一位候選人之得票數內。全村設有四個投開票所，目前第一、第二、第三投開票所已開完所有選票，剩下第四投開票所尚未開票，結果如表示：
- (1) 請分別寫出目前甲、乙、丙三名候選人的得票數。
- (2) 承(1)，請分別判斷甲、乙兩名候選人是否還有機會當選村長，並詳細解釋或完整寫出你的解題過程

投開票所	候選人			廢票	合計
	甲	乙	丙		
一	200	211	147	12	570
二	286	85	244	15	630
三	97	41	205	7	350
四					250

- ➔ 18. Look at the calendar. If Sean has a book festival card, when can he use it?
- ➔ (A) March 3.
- ➔ (B) March 14.
- ➔ (C) March 23.
- ➔ (D) March 29.

March						
Sun.	Mon.	Tues.	Wed.	Thurs.	Fri.	Sat.
	1	2	3	4	5	6
7	8	9	10	11	12	13
14	15	16	17	18	19	20
21	22	23	24	25	26	27
28	29	30	31			

32.圖為中國某行政區2009至2014年接待的國內旅遊人次統計，若根據旅遊者夏季會傾向至避暑勝地，冬季則至避寒勝地旅遊的特性來判斷，右圖最可能是下列何地的資料？

- (A) 山東省
- (B) 海南省
- (C) 黑龍江省
- (D) 西藏自治區

